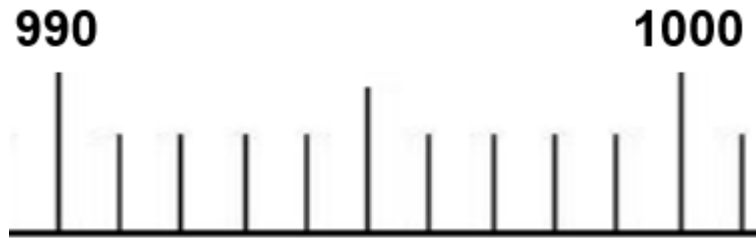


**Exercice :**

Complète avec le nombre qui manque en utilisant la droite graduée:



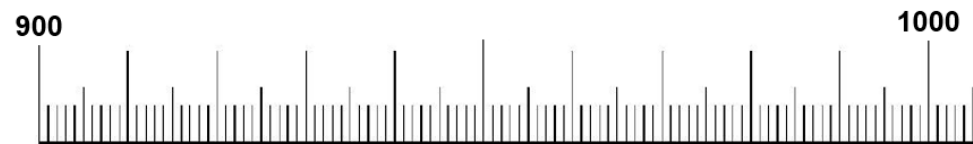
$$990 + \dots = 1000 \quad \text{et} \quad 999 + \dots = 1000$$

**Exercice :**

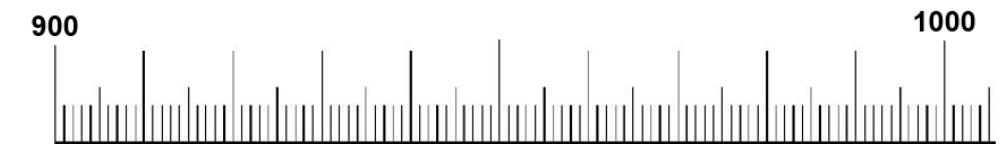
Complète avec le nombre qui manque en utilisant la droite graduée:



$$990 + \dots = 1000 \quad \text{et} \quad 999 + \dots = 1000$$



$$900 + \dots = 1000 \quad \text{et} \quad 950 + \dots = 1000$$



$$900 + \dots = 1000 \quad \text{et} \quad 950 + \dots = 1000$$